

# ◇ 日本史

日 4-1～日 4-11 まで 11 ページあります。

第1問 次の文章を読み、問に答えよ。

A 推古天皇が即位した時代は、蘇我馬子・厩戸王とともに、冠位十二階・憲法十七条の制定、外交的には遣隋使の派遣など、新たな政策を次々に行った。しかし、厩戸王や推古天皇の死後は、蘇我氏による山背大兄王への襲撃、(a)乙巳の変など激しい政権獲得のための抗争が繰り返された。

その後、孝徳天皇の時代には、『改新の詔』が出され、新しい政権構想が打ち出された。しかし、この構想の中心となっていた中大兄皇子は、後に乙巳の変で彼に協力した

(b)蘇我倉山田石川麻呂や孝徳天皇の皇子であった有間皇子らを滅ぼした。663年には、白村江の戦いが起こり、国家的な危機が訪れ、唐・新羅の連合軍に倭が敗れた。中大兄皇子は、国内の(c)防衛政策を進め、やがて近江大津宮で天皇に即位し、天智天皇となった。天智天皇の死後、その後継をめぐる、大海人皇子と大友皇子が対立し、が起こった。その結果、大海人皇子が勝利し、(d)天武天皇となった。





問1 下線部(a)に関して、この時に滅ぼされた人物の組み合わせとして、正しいものを次の①～④のうちから一つ選べ。

解答番号

- ① 蘇我稻目・蘇我蝦夷                      ② 蘇我入鹿・蘇我蝦夷  
③ 蘇我稻目・蘇我赤兄                      ④ 蘇我入鹿・蘇我赤兄

問2 下線部(b)に関して、蘇我倉山田石川麻呂の発願により建立された山田寺のもと本尊であり、その後興福寺に移され、しばらくして発見された仏像はどれか。次の①～④のうちから一つ選べ。

解答番号



問3 下線部(c)に関して、防衛政策についての説明として、正しいものを次の①～④のうちから一つ選べ

解答番号

- ① 新羅からの攻撃に備えて、出羽柵が太平洋側に設置された。
- ② 唐からの攻撃に備えて、磐舟柵が太平洋側に設置された。
- ③ 九州北部に水城や大野城が防御のためにつくられた。
- ④ 日本海側の沿岸すべてに朝鮮式山城を築かせた。

問4 空欄  に該当する語句を次の①～④のうちから一つ選べ。

解答番号

- ① 薬子の変
- ② 磐井の乱
- ③ 安和の変
- ④ 壬申の乱

問5 下線部(d)に関して、天武天皇についての説明として、正しいものを次の①～④のうちから一つ選べ。

解答番号

- ① 難波長柄豊碕宮に都を移し、そこで天皇に即位した。
- ② 中臣鎌足を内臣、旻・高向玄理を国の博士として登用した。
- ③ 八色の姓を定めて豪族たちを天皇中心とした身分秩序に編成した。
- ④ 藤原京へ都を移し、民衆を把握するために庚寅年籍を作成した。

B  年、白河天皇が堀河天皇に譲位し、ここから上皇が政治の実権を握る院政が始まった。1156年に(e)保元の乱、1159年には平治の乱が起き、これら二つの戦いに勝利した(f)平清盛が実権を握り、やがて武士として初めての太政大臣にまでのぼりつめていった。

1180年、後白河法皇の皇子であった以仁王と共に、 が平氏打倒の兵を挙げた。その後、平治の乱後に伊豆に流されていた源頼朝らが挙兵して、平氏は壇ノ浦の戦いで滅んだ。頼朝は(g)征夷大將軍に任ぜられ、鎌倉幕府が成立した。頼朝の死後、妻北条政子の父である北条時政が執権となり政治の実権を握った。時政の息子である北条義時の時、幕府と朝廷との関係が悪化し、承久の乱が起こった。この乱の後も朝廷では院政が行われたが、朝廷と幕府の関係に変化があらわれ、幕府が優位に立つようになっていった。鎌倉幕府は3代執権(h)北条泰時のもとで大きく発展し、5代執権の北条時頼の時には、(i)有力な御家人が滅ぼされ、北条氏の地位を不動のものとした。

問6 空欄  にあてはまる年代を次の①～④のうちから一つ選べ。

解答番号

- ① 1069
- ② 1086
- ③ 1108
- ④ 1129



問7 下線部(e)に関して、崇徳上皇側について戦った人物として、誤っているものを次の①～④のうちから一つ選べ

解答番号

- ① 源為義      ② 藤原頼長      ③ 平忠正      ④ 源義朝

問8 文中の下線部(f)について、平清盛と最も関係の薄い作品を次の①～④のうちから一つ選べ。

解答番号



問9 空欄  に該当する人物を次の①～④のうちから一つ選べ。

解答番号

- ① 源頼政      ② 源頼義      ③ 源義親      ④ 源義家

問10 下線部(g)に関して、鎌倉幕府の将軍についての説明として、正しいものを次の①～④のうちから一つ選べ。

解答番号

- ① 2代将軍源頼家は、梶原氏とのつながりが深く、そのことが原因で暗殺された。
- ② 3代将軍源実朝は、源頼家の遺児の公暁によって暗殺された。
- ③ 4代将軍に迎えられた藤原（九条）頼経は、北条氏を抑え政治の実権を握った。
- ④ 5代将軍の藤原頼嗣は、北条時頼と対立したことから後に暗殺された。

問 11 下線部(h)に関して、北条泰時の業績についての説明として、誤っているものを次の①～④のうちから一つ選べ。

解答番号 

11
----

- ① 初めての武士の成文法である御成敗式目を制定した。
- ② 執権の補佐をする引付を設置して、政権の運営を迅速にした。
- ③ 重要政務や裁判の評議・裁定のための役職である評定衆を設置した。
- ④ 承久の乱では、北条時房とともに京都を攻撃し、後鳥羽上皇方を破った。

問 12 下線部(i)に関して、滅ぼされた人物とその事件名の正しい組み合わせを次の①～④のうちから一つ選べ。

解答番号 

12
----

- |        |   |       |        |   |      |
|--------|---|-------|--------|---|------|
| ① 平頼綱  | － | 平禅門の乱 | ② 安達泰盛 | － | 霜月騒動 |
| ③ 和田義盛 | － | 和田合戦  | ④ 三浦泰村 | － | 宝治合戦 |

第2問 次の文章を読み、問に答えよ。

A 奈良時代には、官吏養成機関として中央に〔1〕、地方に〔2〕がおかれ、中央の貴族や地方の豪族の子弟を教育した。平安時代初期には、有力貴族が子弟の教育のために(a)大学別曹を設けた。また、〔3〕が設立した綜芸種智院は庶民に対しても門戸を開いた。

問1 空欄〔1〕・〔2〕に該当する語句の組み合わせとして、正しいものを次の①～④のうちから一つ選べ。

解答番号 13

- ① 1－国学 2－大学                      ② 1－官学 2－大学  
③ 1－大学 2－国学                      ④ 1－大学 2－官学

問2 下線部(a)に関して、藤原氏の大学別曹を次の①～④のうちから一つ選べ。

解答番号 14

- ① 勸学院                      ② 学館院                      ③ 弘文院                      ④ 奨学院

問3 空欄〔3〕に該当する人物を次の①～④のうちから一つ選べ。

解答番号 15

- ① 石上宅嗣                      ② 最澄                      ③ 菅原道真                      ④ 空海

B 中世になると、武家を中心に学問や教育への関心が高まった。鎌倉時代には〔4〕が金沢文庫を設立して和漢の書籍を集め、室町時代には〔5〕が足利学校を再興した。(b)武士や有力商人・農民の子弟の教育も盛んになり、応仁の乱後は、京都から多くの公家や文化人が地方を転々とし、(c)中央の文化を地方に伝えた。

問4 空欄〔4〕・〔5〕に該当する語句の組み合わせとして、正しいものを次の①～④のうちから一つ選べ。

解答番号 16

- ① 4－北条貞時 5－足利持氏                      ② 4－北条貞時 5－上杉憲実  
③ 4－北条実時 5－上杉憲実                      ④ 4－北条実時 5－足利持氏

問5 下線部(b)に関する次のI・IIの文について、正誤の組み合わせとして、正しいものを次の①～④のうちから一つ選べ。

解答番号 17

- I 武士の子弟の教育には『庭訓往来』や『貞永式目』が用いられた。  
 II 『節用集』という簡便な辞書を町人や農民の読み書きの教育に用いた。

- ① I－正 II－正                                  ② I－正 II－誤  
 ③ I－誤 II－正                                  ④ I－誤 II－誤

問6 下線部(c)に関して、正しいものを次の①～④のうちから一つ選べ。

解答番号

- ① 絶海中津は薩南学派のもとを開いた。  
 ② 絶海中津は海南学派のもとを開いた。  
 ③ 桂庵玄樹は薩南学派のもとを開いた。  
 ④ 桂庵玄樹は海南学派のもとを開いた。

C 江戸時代には、(d)林家の家塾が幕府の保護をうけた。諸藩では、藩校を設置して藩士の子弟の教育を行うほか、(e)庶民教育のための郷学を設置するところもあった。江戸時代後期には蘭学への関心が高まり、緒方洪庵が  で蘭学塾  を開き、人材の育成に努めた。

問7 下線部(d)に関して、正しいものを次の①～④のうちから一つ選べ。

解答番号

- ① 徳川綱吉は林鷲峰を大学頭に任命した。  
 ② 徳川綱吉は朱子学以外の学問を異学とした。  
 ③ この家塾で『古事記伝』が完成した。  
 ④ この家塾は後に昌平坂学問所になった。

問8 下線部(e)に関して、関谷学校を設置した藩を次の①～④のうちから一つ選べ。

解答番号

- ① 熊本藩            ② 岡山藩            ③ 水戸藩            ④ 会津藩

問9 空欄  ・  に該当する語句の組み合わせとして、正しいものを次の①～④のうちから一つ選べ。

解答番号

- ① 6－大坂    7－鳴滝塾                                  ② 6－大坂    7－適塾  
 ③ 6－長崎    7－鳴滝塾                                  ④ 6－長崎    7－適塾

D 明治政府は1871年に文部省を新設し、(f)近代教育制度の導入をすすめた。高等教育機関としては、政府が設置する学校とは別に、(g)独自の教育方針をもつ私立の学校も

設立された。戦後は、1947年の(h) 教育基本法と学校教育法の制定により、民主化教育の基礎がつくられた。

問 10 下線部(f)に関して、次のⅠ～Ⅲを年代順に並べたときに、正しいものを次の①～⑥のうちから一つ選べ。

解答番号

Ⅰ 教育令

Ⅱ 学校令

Ⅲ 学制

① Ⅰ→Ⅱ→Ⅲ

② Ⅰ→Ⅲ→Ⅱ

③ Ⅱ→Ⅰ→Ⅲ

④ Ⅱ→Ⅲ→Ⅰ

⑤ Ⅲ→Ⅰ→Ⅱ

⑥ Ⅲ→Ⅱ→Ⅰ

問 11 下線部(g)に関して、誤っているものを次の①～④のうちから一つ選べ。

解答番号

① 大隈重信は明治法律学校を設立した。

② 福沢諭吉は慶應義塾を設立した。

③ 新島襄は同志社を設立した。

④ 津田梅子は女子英学塾を設立した。

問 12 下線部(h)の内容として、誤っているものを次の①～④のうちから一つ選べ。

解答番号

① 義務教育9年制

② 教育委員会の設置

③ 教育の機会均等

④ 男女共学



第3問 次の文章を読み、問に答えよ。

A 18世紀後半から欧米諸国が日本に接近しはじめた。1792年には(a) ロシア船が来航し、日本人の漂流民を送り届けて通商を求め、その後もイギリス船やアメリカ船の来航が相次ぎ、幕府は対外関係や(b) 国防対策を見直す時期を迎えた。

1853年、アメリカ東インド艦隊司令長官のペリーが率いる軍艦が来航して開国を要求し、幕府は1854年に日米和親条約を締結した。このペリー来航をきっかけに、幕府は(c) 国政の転換をはかった。アメリカはハリスを初代総領事として赴任させ、1858年に(d) 日米修好通商条約を締結させた。(e) 翌年から開始された貿易によって、日本国内に経済的混乱が生じ、幕政への批判や攘夷運動の背景となった。

問1 下線部(a)に関して、次のⅠ～Ⅲの出来事を年代順に並べたときに、正しいものを次の①～⑥のうちから一つ選べ。

解答番号

- Ⅰ レザノフの長崎来航
- Ⅱ ラクスマンの根室来航
- Ⅲ プチャーチンの長崎来航

- ① Ⅰ→Ⅱ→Ⅲ                      ② Ⅰ→Ⅲ→Ⅱ                      ③ Ⅱ→Ⅰ→Ⅲ
- ④ Ⅱ→Ⅲ→Ⅰ                      ⑤ Ⅲ→Ⅰ→Ⅱ                      ⑥ Ⅲ→Ⅱ→Ⅰ

問2 下線部(b)に関して、『海国兵談』で海防の必要を唱えて幕府に処罰された人物を次の①～④のうちから一つ選べ。

解答番号

- ① 林子平    ② 渡辺崋山
- ③ 工藤平助    ④ 近藤重蔵

問3 下線部(c)に関して、当時の老中阿部正弘の政策として、正しいものを次の①～④のうちから一つ選べ。

解答番号

- ① 異国船打ち払い令を出して外国船の来航に対抗した。
- ② 孝明天皇の妹の和宮を将軍の妻に迎えた。
- ③ 薪水給与令を出して外国船の来航に対応した。
- ④ 大名や幕臣に意見を求め、朝廷に報告した。

問4 下線部(d)に関して、次の史料の空欄  ・  に該当する語句の組み合わせとして、正しいものを次の①～④のうちから一つ選べ。

解答番号

〈史料〉

第三条 下田・港の外、次にいふ所の場所を、左の期限より開くべし。

(中略) 西洋紀元千八百五十九年七月四日

長崎 (中略) 同断

新潟 (中略) 千八百六十年一月一日

兵庫 (中略) 千八百六十三年一月一日

若し新潟港を開き難き事あらば、其代わりとして同所前後に於て、一港を別に選ぶべし。港を開く後六箇月にして下田港は鎖すべし。(中略)

『日本外交年表竝に主要文書』

- ① ア 浦賀 イ 神奈川                      ② ア 浦賀 イ 横浜  
③ ア 箱館 イ 神奈川                      ④ ア 箱館 イ 横浜

問5 下線部(e)に関して、誤っているものを次の①～④のうちから一つ選べ。

解答番号

- ① オランダ・ロシア・イギリス・フランスとも同様の条約を結んだ。  
② 開港後の貿易では、イギリスとの取り引きが一番多かった。  
③ 開港場には外国人居留地が設けられた。  
④ 主に生糸や茶が輸出され、絹織物・綿織物が輸入された。

**B** 欧米にならぬアジアの強国をめざした日本は、朝鮮をめぐる清との対立を深めた。朝鮮で農民反乱が起こると、日清両国は出兵し(f)戦争が勃発した。日本はこの戦争に勝利したが、朝鮮の支配をめぐるロシアとの対立が強まった。ロシアはで派遣した軍隊の駐留を続け勢力を拡大し、日本国内ではロシアとの開戦論が強まり戦争に突入した。この戦争にも勝利した日本は韓国の外交権を奪い、統監府を設置してを初代の統監とした。

問6 下線部(f)に関して、正しいものを次の①～④のうちから一つ選べ。

解答番号

- ① この戦争の戦費は17億円以上となった。  
② この戦争に対して、堺利彦・幸徳秋水らが反戦論を唱えた。  
③ この戦争の講和会議は、下関で行われた。  
④ この戦争の講和条約に不満をもった民衆が日比谷焼き打ち事件をおこした。

問7 空欄に該当する語句として、正しいものを次の①～④のうちから一つ選べ。

解答番号

- ① 江華島事件                                      ② 北清事変  
③ 壬午軍乱                                        ④ 甲申事変

問 8 空欄  に該当する人物を次の①～④のうちから一つ選べ。

解答番号

- ① 桂太郎
- ② 寺内正毅
- ③ 山本権兵衛
- ④ 伊藤博文

C (g) 金融恐慌をきっかけに(h) 田中義一内閣が成立すると、日本の外交方針は協調外交から積極外交に転換した。一方、前年に中国では北伐(国民革命)が開始され、華北や満州における日本の権益をおびやかすことになった。1930年代になると「満蒙の危機」がさげばれ、関東軍は(i) 満州事変を引き起こした。さらに、関東軍は華北分離工作をすすめ、ついに日本は(j) 中国との全面戦争に突入した。

問 9 下線部(g)に関して、誤っているものを次の①～④のうちから一つ選べ。

解答番号

- ① 片岡直温蔵相の失言による銀行の取付け騒ぎからはじまった。
- ② 内閣は台湾銀行を救済しようとしたが、貴族院に拒否された。
- ③ この恐慌をきっかけに、三井・三菱・住友・安田・第一の五大銀行の支配が強まった。
- ④ モラトリアム(支払猶予令)の発令によって、事態は収拾した。

問 10 下線部(h)に関して、この内閣の時の出来事でないものを次の①～④のうちから一つ選べ。

解答番号

- ① 金輸出解禁
- ② 三・一五事件
- ③ 張作霖爆殺事件
- ④ 山東出兵

問 11 下線部(i)に関して、誤っているものを次の①～④のうちから一つ選べ。

解答番号

- ① 関東軍が柳条湖付近で南満州鉄道の線路を爆破し、中国軍の行為であるとした。
- ② 関東軍参謀の東条英機らが中心となった。
- ③ 第2次若槻礼次郎内閣は不拡大方針を唱えた。
- ④ 満州を占領した関東軍は、清朝最後の皇帝溥儀を執政とする満州国を発足させた。

問 12 下線部(j)に関して、誤っているものを次の①～④のうちから一つ選べ。

解答番号

- ① 北京郊外の盧溝橋で日中両軍が衝突した。
- ② 中国は、抗日民族統一戦線を結成して強力に抵抗した。

- ③ 戦争が始まった同年に、国内では国家総動員法が成立した。
- ④ 日本は汪兆銘を中心に、南京に新国民政府を樹立させた。